

1. एक घन का सबसे लंबा विकर्ण  $6\sqrt{3}$  cm है। घन का कुल पृष्ठीय क्षेत्रफल ज्ञात कीजिए।

- (a)  $216 \text{ cm}^2$   
(b)  $648 \text{ cm}^2$   
(c)  $324 \text{ cm}^2$   
(d)  $36 \text{ cm}^2$

[a]

2.  $[\{2^4(20 \times 5 + 10) \div 11\} - (2^3 \times 15 \div 20) - (9 \times 16)]$  का मान क्या है?

- (a) 10  
(b) 8  
(c) 12  
(d) 16

[a]

3. निम्न तालिका में वर्ष 1984-85 से 1989-90 के लिए राष्ट्रीय आय और देश की जनसंख्या को दर्शाया गया है?

वर्ष	राष्ट्रीय आय (करोड़ में)	जनसंख्या (करोड़ में)
1984-85	₹229.225	74.0
1985-86	₹261.174	75.0
1986-87	₹291.556	77.0
1987-88	₹329.200	78.5
1988-89	₹389.500	80.0
1989-90	₹434.500	81.5

1987-88, 1988-89 और 1989-90 के वर्षों के लिए औसत राष्ट्रीय आय (करोड़ में) कितनी थी?

- (a) ₹389.2  
(b) ₹396.2  
(c) ₹384.4  
(d) ₹392.4

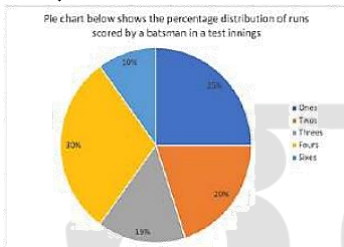
[c]

4. एक बाइक एक पुल को 75 km/h की चाल से पार करती है। यदि बाइक को पुल पार करने में 20 मिनट का समय लगता है, तो पुल की लंबाई (km में) कितनी है?

- (a) 20  
(b) 45  
(c) 30  
(d) 25

[d]

5. निम्नलिखित वृत्त आलेख में एक टेस्ट की पारियों में एक बल्लेबाज द्वारा बनाए गए रनों के प्रतिशत वितरण को दर्शाया गया है।



संदर्भ: Pie chart below shows the percentage distribution of runs scored by a batsman in a test innings - वृत्त आलेख एक टेस्ट की पारियों में एक बल्लेबाज द्वारा बनाए गए रनों के प्रतिशत वितरण को दर्शाता है, Ones - एक रन, Twos - दो रन, Threes - तीन रन, Fours - चौके, Sixes - छक्के

यदि बल्लेबाज ने कुल 360 रन बनाए हैं, तो उसने कितने चौके और छक्के मारे?

- (a) 31 और 2  
(b) 25 और 8  
(c) 27 और 6  
(d) 30 और 3

[c]

6. संख्या 3, 9, 8 का चतुर्थ समानुपाती ज्ञात कीजिए।

- (a) 10  
(b) 20  
(c) 24  
(d) 12

[c]

7. तीन अंकों की वह सबसे बड़ी संख्या कौन-सी है जिससे 4, 8 और 9 से भाग देने पर कोई शेषफल नहीं बचेगा?

- (a) 936  
(b) 963  
(c) 932  
(d) 924

[a]

8. एक व्यक्ति 5 वर्ष के लिए 5% वार्षिक साधारण ब्याज दर पर ₹5,000 का निवेश करता है। 5 वर्ष के अंत में, वह पूरी धनराशि को उसी ब्याज दर पर अगले 3 वर्षों के लिए फिर से निवेश करता है। 8 वर्ष के अंत में व्यक्ति द्वारा अर्जित कुल ब्याज कितना होगा?

- (a) ₹2,187.50  
(b) ₹2,323.50  
(c) ₹2,256.50  
(d) ₹2,156.50

[a]

9. एक मोटर नाव किसी चाल से यात्रा करते हुए धारा के प्रतिकूल 28 km और धारा के अनुकूल 40 km की दूरी 11 घंटे में तय करती है। उसी चाल से वह धारा के अनुकूल 30 km और धारा के प्रतिकूल 16 km की यात्रा 7 घंटे में तय करती है। धारा की चाल क्या है?

- (a) 4 km/h  
(b) 1 km/h  
(c) 2 km/h  
(d) 3 km/h

[d]

10. एक दुकानदार ने एक ओवन ₹25,000 में खरीदा और इसे ₹29,500 में बेच दिया। उसने अतिरिक्त खर्च के रूप में ₹1,500 खर्च किए। उसका हानि या लाभ प्रतिशत क्या है (निकटतम पूर्णांक तक सन्निकटित)?

- (a) 11% का लाभ  
(b) 13% का लाभ  
(c) 13% की हानि  
(d) 11% की हानि

[a]

11. A, B और C ने एक व्यवसाय शुरू किया। A की पूंजी की पूंजी का 7 गुना है और B की पूंजी की पूंजी का 2 गुना है। यदि लाभ ₹7,920 है, तो C का हिस्सा (₹ में) ज्ञात कीजिए।

- (a) 360  
(b) 365  
(c) 350  
(d) 355

[a]

12. 1 से 73 तक की प्राकृत संख्याओं का औसत क्या है?

- (a) 28

- (b) 37  
(c) 30  
(d) 34 [b]
13. 11 cm लंबाई, 8 cm चौड़ाई और 6 cm ऊंचाई वाले एक ठोस धातु के घनाभ को पिघलाकर 14 cm ऊंचाई वाला एक शंकु बनाया जाता है। इस प्रकार बने शंकु की त्रिज्या क्या है?  
(a) 7 cm  
(b) 6 cm  
(c) 8 cm  
(d) 9 cm [b]
14. A किसी काम को 10 दिनों में पूरा कर सकता है। वह 4 दिन काम करता है और फिर काम करना बंद कर देता है। B शेष काम को 9 दिनों में पूरा करता है। A और B साथ मिलकर उस काम को कितने दिनों में पूरा कर सकते हैं?  
(a) 4 दिन  
(b) 7 दिन  
(c) 5 दिन  
(d) 6 दिन [d]
15. P एक काम का  $\frac{1}{5}$  भाग 12 दिनों में पूरा कर सकता है और Q उसी काम का  $\frac{1}{6}$  भाग 8 दिनों में पूरा कर सकता है। P और Q दोनों 5 साथ मिलकर उस काम को कितने दिनों में पूरा कर सकते हैं? 6  
(a)  $22\frac{4}{5}$   
(b)  $25\frac{4}{5}$   
(c)  $24\frac{2}{3}$   
(d)  $26\frac{2}{3}$  [d]
16. एक बोतल के मूल्य में पहले 15% की वृद्धि की जाती है और बाद में बिक्री में कमी के कारण इसके मूल्य में 24% की कमी की जाती है। बोतल के अंतिम मूल्य में निवल प्रतिशत परिवर्तन ज्ञात कीजिए।  
(a) 12.6% की वृद्धि  
(b) 13.9% की कमी  
(c) 13.9% की वृद्धि  
(d) 12.6% की कमी [d]
17. एक कार 84 किमी/घंटा की गति से 60 किमी की दूरी तय करती है। यदि पूरी यात्रा के लिए औसत गति 72 किमी/घंटा है, तो यात्रा के अगले 60 किमी के लिए कार की गति क्या है?  
(a) 63 km/h  
(b) 75 km/h  
(c) 78 km/h  
(d) 68 km/h [a]
18. 32 व्यक्तियों का औसत व्यय 6000 रुपये है और अन्य 40 व्यक्तियों का औसत व्यय 3300 रुपये है। पूरे समूह का औसत व्यय कितना है?  
(a) 4500 रुपये  
(b) 4162 रुपये  
(c) 4800 रुपये  
(d) 4650 रुपये [a]
19. एक माइक्रोवेव और एक डिश वॉशिंग मशीन प्रत्येक को ₹27,000 के मूल्य पर बेचा गया। यदि माइक्रोवेव को 25% के लाभ पर और डिश वॉशिंग मशीन को 25% की हानि पर बेचा गया, तो पूरे लेन-देन पर कुल लाभ% या हानि% क्या है?  
(a) 8.25% लाभ  
(b) 5.50% हानि  
(c) 6.25% हानि  
(d) 7.75% लाभ [c]
20. यदि ब्याज अर्द्धवार्षिक रूप से संयोजित होता है, तो 500 रुपये पर 2 वर्षों में 20% वार्षिक की दर से चक्रवृद्धि ब्याज (रुपये में) ज्ञात कीजिए।  
(a) 232.05  
(b) 225.08  
(c) 132.05  
(d) 264.05 [a]
21. यदि 15 जुलाई 2010 को गुरुवार है, तो 5 जून 2022 को सप्ताह का कौन-सा दिन होगा?  
(a) सोमवार  
(b) बुधवार  
(c) मंगलवार  
(d) रविवार [d]
22. दी गई श्रृंखला में प्रश्न चिह्न '?' के स्थान पर क्या आना चाहिए?  
11 91 811 ? 65611 590491 5314411  
(a) 7291  
(b) 7921  
(c) 7912  
(d) 7129 [a]
23. अंग्रेजी वर्णमाला क्रम के आधार पर दी गई श्रृंखला में प्रश्न चिह्न (?) के स्थान पर क्या आना चाहिए?  
PVC, SUF, VTI, YSL, ?  
(a) CSP  
(b) BRO  
(c) DRP  
(d) CQR [b]
24. दी गई श्रृंखला में प्रश्न चिह्न '?' के स्थान पर क्या आना चाहिए?  
14 43 130 391 1174 ?  
(a) 2476  
(b) 3523  
(c) 3416  
(d) 3519 [b]
25. दिए गए कथनों और निष्कर्षों को ध्यान से पढ़ें। आपको दिए गए कथनों को सत्य मानना है, भले ही वे सामान्यतः ज्ञात तथ्यों से भिन्न प्रतीत होते हों। आपको यह तय करना है कि कौन सा निष्कर्ष/निष्कर्ष दिए गए कथनों का तार्किक रूप से अनुसरण करते हैं।  
कथन:  
कुछ लैपटॉप पेंसिल हैं।  
कुछ पेंसिल रूलर हैं।  
सभी रूलर सफ़ेद हैं।  
निष्कर्ष

I: कुछ पेंसिल लैपटॉप हैं।

II: सभी रूलर पेंसिल हैं।

- (a) न तो निष्कर्ष (I) और न ही (II) अनुसरण करता है।  
 (b) दोनों निष्कर्ष (I) और (II) अनुसरण करते हैं।  
 (c) केवल निष्कर्ष (I) अनुसरण करता है।  
 (d) केवल निष्कर्ष (II) अनुसरण करता है।

[c]

26. अक्षरों के उस संयोजन को चुनिए जिसे दी गई श्रृंखला के रिक्त स्थानों के क्रमिक रूप से रखन पर श्रृंखला पूरी हो जाएगी।

DE \_ D \_ D \_ E \_ \_ ED

- (a) DDEDE  
 (b) DEDDD  
 (c) DEDEE  
 (d) EDDDE

[b]

27. दिए गए कथनों और निष्कर्षों को ध्यान से पढ़ें। आपको दिए गए कथनों को सत्य मानना है, भले ही वे सामान्यतः ज्ञात तथ्यों से भिन्न प्रतीत होते हों। आपको तय करना है कि दिए गए कथनों में से कौन सा निष्कर्ष/निष्कर्ष तार्किक रूप से अनुसरण करते हैं।

कथन:

सभी कौवे केले हैं।

कुछ केले गुलाबी हैं।

सभी गुलाबी सफेद हैं।

निष्कर्ष:

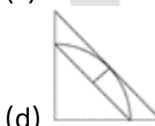
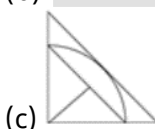
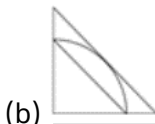
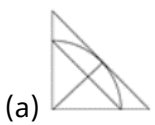
I: कुछ कौवे केले हैं।

II: सभी केले गुलाबी हैं।

- (a) दोनों निष्कर्ष (I) और (II) अनुसरण करते हैं।  
 (b) केवल निष्कर्ष (I) अनुसरण करता है।  
 (c) केवल निष्कर्ष (II) अनुसरण करता है।  
 (d) न तो निष्कर्ष (I) और न ही (II) अनुसरण करता है।

[b]

28. पैटर्न को पूरा करने वाली आकृति को पहचानिए (घूर्णन की अनुमति नहीं है)।



[b]

29. एक निश्चित कूट भाषा में, 'TUNE' को 4368 लिखा जाता है और UNIT को 8423 लिखा जाता है। उसी कूट भाषा में '1' को कैसे लिखा जाएगा?

- (a) 2  
 (b) 4  
 (c) 8  
 (d) 3

[a]

30. यदि D का अर्थ -, का अर्थ ×, F का अर्थ +, B का अर्थ + है, तो निम्नलिखित समीकरण में प्रश्न चिह्न (?) के स्थान पर क्या आएगा?

28 B 72 F 6 D 8 C 4 = ?

- (a) 18  
 (b) 26  
 (c) 8  
 (d) 14

[c]

31. एक निश्चित तर्क के अनुसार 4, 14 से संबंधित है। समान तर्क के अनुसार, 7, 26 से संबंधित है। समान तर्क का अनुसरण करते हुए 9 निम्नलिखित में से किससे संबंधित है?

- (a) 37  
 (b) 35  
 (c) 36  
 (d) 34

[d]

32. सात लोग, W, D, J, S, H, G और Y दक्षिण की ओर मुंह करके एक सीधी रेखा में बैठे हैं। G, S के बाएं दूसरे स्थान पर बैठा है। G, D और H का निकटतम पड़ोसी है। Y, D के दाएं तीसरे स्थान पर बैठा है। W के दाएं केवल दो लोग बैठे हैं। पंक्ति के सबसे दाएं छोर पर कौन बैठा है?

- (a) Y  
 (b) G  
 (c) W  
 (d) J

[d]

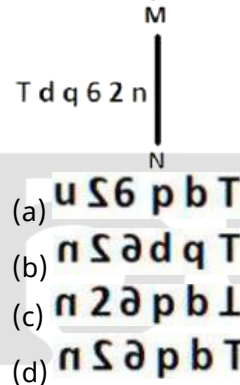
33. अंग्रेजी वर्णमाला क्रम के आधार पर दी गई श्रृंखला में प्रश्न चिह्न (?) के स्थान पर क्या आना चाहिए?

WAP, VEO, UIN, TMM, ?

- (a) RPM  
 (b) QSN  
 (c) QPN  
 (d) SQL

[d]

34. दी गई आकृति के उस सही दर्पण प्रतिबिंब को चुनिए, जो नीचे दर्शाए गए अनुसार दर्पण को MN पर रखने पर बनेगा।



[d]

35. एक निश्चित तर्क के अनुसार 2, 7 से संबंधित है। समान तर्क के अनुसार, 4, 63 से संबंधित है। समान तर्क का अनुसरण करते हुए 9 निम्नलिखित में से किससे संबंधित है?

- (a) 728

- (b) 729  
(c) 730  
(d) 731 [a]
36. दी गई श्रृंखला में प्रश्न चिह्न '?' के स्थान पर क्या आना चाहिए?  
22 24 28 30 34 ?  
(a) 40  
(b) 36  
(c) 42  
(d) 38 [b]
37. यदि '+' और '-' को आपस में बदल दिया जाए और 'x' और '-' को आपस में बदल दिया जाए तो निम्नलिखित समीकरण में '?' के स्थान पर क्या आएगा?  
 $12 + 6 \times 5 - 7 \div 2 = ?$   
(a) -13  
(b) -14  
(c) -46  
(d) -31 [d]
38. उस शब्द-युग्म का चयन कीजिए जो नीचे दिए गए शब्दों के है।  
हों के युग्म में व्यक्त किए गए समान संबंध का सबसे अच्छा निरूपण करता  
(शब्दों को अर्थपूर्ण हिंदी शब्दों के रूप में माना जाना चाहिए और उन्हें शब्द में अक्षरों की संख्या/व्यंजन/स्वरों की संख्या के पर एक दूसरे से संबंधित नहीं किया जाना चाहिए।) चाहिए।  
आधार  
घोड़ा : घोड़ी  
(a) गधा : टट्टू  
(b) लोमड़ी : मादा लोमड़ी  
(c) बत्तख : हंस  
(d) कुत्ता : पिल्ला [b]
39. एक निश्चित कूट भाषा में, 'people talk about' को 'ki li ni' लिखा जाता है और 'let them talk' को 'si ki hi' लिखा जाता है। उसी कूट भाषा में 'talk' को कैसे लिखा जाएगा?  
(a) li  
(b) ni  
(c) ki  
(d) hi [c]
40. यदि निम्नलिखित आकृति श्रृंखला को जारी रखना हो तो कौन-सी आकृति प्रश्न चिह्न (?) के स्थान पर आनी चाहिए?

T	□	O	Y	♥	↑	T	N	
O	N	L	Y	♥	□	A	↑	T
♥	↑	T	N	A	Y	♥	2	?

- (a) 

A	Y
♥	K
△	N

A	Y
♥	△
↑	2
- (b) 

T	N
---	---

△	Y
T	K
♥	2
A	N
♥	2
△	A
↑	N
T	Y

- (c) एक छोटी अवधि के दौरान किसी पिंड पर लगने वाले बल को \_\_\_\_\_ के रूप में जाना जाता है?  
(a) तनन प्रतिबल  
(b) पृष्ठ तनाव  
(c) आवेग  
(d) दाब [a]
42. निम्नलिखित में से कौन-सा राज्य 2023 जनजातीय खेल महोत्सव में पुरुष और महिला दोनों श्रेणियों में समग्र चैंपियन बना?  
(a) कर्नाटक  
(b) झारखंड  
(c) ओडिशा  
(d) छत्तीसगढ़ [c]
43. ऋतुराज गायकवाड़ (Ruturaj Gaikwad) लिस्ट ए क्रिकेट (List-A cricket) में एक ओवर में कितने छक्के लगाने वाले पहले बल्लेबाज बने?  
(a) 7  
(b) 4  
(c) 6  
(d) 5 [a]
44. भारत में निम्नलिखित में से किस प्रकार के वनों में ऊंट पाए जाते हैं?  
(a) उष्णकटिबंधीय सदाबहार वन  
(b) पर्वतीय वन  
(c) कांटेदार वन और झाड़ियां  
(d) मैंग्रोव वन [c]
45. किस भारतीय संगीतकार को 2001 में भारत रत्न से सम्मानित किया गया था?  
(a) बिस्मिल्लाह खान  
(b) भीमसेन जोशी  
(c) शिवकुमार शर्मा  
(d) हरिप्रसाद चौरसिया [a]
46. निम्नलिखित ब्रिटिश गवर्नर-जनरलों में से किसके अधीन ईस्ट इंडिया कंपनी द्वारा ब्रिटिश भारत में 'सर्वोच्चता (paramountcy)' की नई नीति की शुरुआत की गई थी?  
(a) लॉर्ड वैलेस्ली  
(b) लॉर्ड एमहर्स्ट  
(c) लॉर्ड कार्नवालिस  
(d) लॉर्ड हेस्टिंग्स [d]
47. पर्युषण पर्व (Paryushana Parva) निम्नलिखित में से किस समुदाय का त्योहार है?  
(a) ईसाई  
(b) हिंदू  
(c) पारसी



- (d) जैन [d]
48. लाल किला कहां स्थित है? [d]  
(a) लखनऊ  
(b) दिल्ली  
(c) इंदौर  
(d) अहमदाबाद
49. 'मालगुडी डेज' के लेखक कौन है? [b]  
(a) आर.के. नारायण  
(b) विक्रम सेठ  
(c) रवीन्द्रनाथ टैगोर  
(d) चेतन भगत
50. गोवा सरकार ने नवंबर 2022 में निम्नलिखित में से किसके लिए एक नई योजना की शुरुआत की? [a]  
(a) देव दर्शन  
(b) भारत दर्शन  
(c) इतिहास दर्शन  
(d) गोवा दर्शन
51. जब भारत के संविधान में मौलिक कर्तव्यों को शामिल किया गया तब भारत के प्रधान मंत्री कौन था? [a]  
(a) इंदिरा गांधी  
(b) राजीव गांधी  
(c) जवाहर लाल नेहरू  
(d) अटल बिहारी वाजपेयी
52. मोहोरोविचिक (मोहो) असंततता किसे अलग करती है? [a]  
(a) पृथ्वी की पपड़ी और मेंटल  
(b) पृथ्वी का वायुमंडल और जलमंडल  
(c) पृथ्वी का स्थलमंडल और एस्थेनोस्फीयर  
(d) पृथ्वी की पपड़ी और आंतरिक कोर
53. 1600 के वर्षों के दौरान लैटिन शब्द 'सेलुला (cellula)' से 'सेल (कोशिका)' शब्द किसने बनाया, जिसका अर्थ है 'छोटा कमरा (small room)'? [d]  
(a) लुई पाश्चर (Louis Pasteur)  
(b) लिन मार्गुलिस (Lynn Margulis)  
(c) थियोडोर श्वान (Theodor Schwann)  
(d) रॉबर्ट हुक (Robert Hooke)
54. भारत ने ODI क्रिकेट विश्व कप 2011 का फाइनल किस देश के विरुद्ध खेला था? [b]  
(a) ऑस्ट्रेलिया  
(b) श्रीलंका  
(c) इंग्लैंड  
(d) पाकिस्तान
55. डॉ. तीजन बाई, जिन्हें पद्म विभूषण (2019) से सम्मानित किया गया था, \_\_\_\_\_ राज्य की एक प्रसिद्ध भारतीय लोक गायिका और कलाकार हैं? [c]  
(a) हिमाचल प्रदेश  
(b) असम  
(c) छत्तीसगढ़  
(d) राजस्थान
56. निम्नलिखित में से कौन-सी भारतीय राजनीतिक दलीय प्रणाली की विशेषता नहीं है? [a]  
(a) एकदलीय प्रणाली  
(b) प्रभावी विपक्ष का अभाव
- (c) गुटबाजी और दलबदल  
(d) बहुदलीय प्रणाली [a]
57. निम्नलिखित में से कौन-सा ब्रिटिश भारत में महात्मा गांधी के नेतृत्व में पहला सत्याग्रह आंदोलन था? [a]  
(a) चम्पारण सत्याग्रह  
(b) रॉलेट सत्याग्रह  
(c) खेड़ा सत्याग्रह  
(d) बारडोली सत्याग्रह
58. \_\_\_\_\_ नृत्य की मूल शब्दावली में नकली युद्ध तकनीक, पक्षियों और जानवरों की शैलीगत चाल और गाँव की गृहिणियों के कामों पर आधारित गतिविधियाँ शामिल हैं और पूर्वी भारत में ज्यादातर पुरुषों द्वारा की जाती हैं। [b]  
(a) कथकली  
(b) छऊ  
(c) मणिपुरी  
(d) सत्तरिया
59. निम्नलिखित में से कौन-सा बंदरगाह ओडिशा में स्थित है? [b]  
(a) हल्दिया बंदरगाह  
(b) पारादीप बंदरगाह  
(c) कांडला बंदरगाह  
(d) तूतीकोरिन बंदरगाह
60. निम्नलिखित कथन किसने कहा? [d]  
"मुद्रा वही है जो मुद्रा का काम करे (Money is what money does)"  
(a) प्रो. रॉबर्टसन/(Prof. Robertson)  
(b) प्रो. सेलिगमैन/ (Prof. Seligman)  
(c) प्रो. कोल/ (Prof. Cole)  
(d) प्रो. वाकर/ (Prof. Walker)
61. अमृता प्रीतम के निम्नलिखित में से किस उपन्यास पर आधारित फिल्म पुरस्कार जीता? [a]  
(a) पिंजर  
(b) विलेज नंबर 36  
(c) नागमणि  
(d) रसीदी टिकट
62. रोहिणी भाटे, पंडित मुन्नालाल शुक्ला, कुमुदिनी लाखिया और शर्मा निम्नलिखित में से किस शास्त्रीय नृत्य शैली के प्रसिद्ध व्याख्याता हैं? [b]  
(a) कथकली  
(b) कथक  
(c) कुचिपुड़ी  
(d) भरतनाट्यम
63. प्रधानमंत्री रोजगार प्रोत्साहन योजना (PMRPY) की शुरुआत किस वर्ष की गई थी? [d]  
(a) 2018  
(b) 2015  
(c) 2022  
(d) 2016
64. मोहिनीअट्टम एक शास्त्रीय नृत्य शैली है जो \_\_\_\_\_ से संबंधित है? [a]  
(a) केरल  
(b) ओडिशा  
(c) तमिलनाडु

- (d) मणिपुर [a]
65. निम्नलिखित में से कौन सी सूक्ष्म वित्त संस्थाओं की विशेषता है?
- (a) केंद्रीय मंत्रियों को वित्तीय सेवा  
(b) वंचित लोगों को वित्तीय सेवा  
(c) सरकारी कर्मचारियों को वित्तीय सेवा  
(d) कॉर्पोरेट को वित्तीय सेवा [b]
66. Select the most appropriate synonym of the given word. Pretend
- (a) Feign  
(b) Reign  
(c) Align  
(d) Benign [a]
67. Select the most appropriate meaning of the given idiom. Spill the beans
- (a) To believe something as it seems  
(b) To do things in a fair way  
(c) To tell a secret  
(d) To cry over what is done [c]
68. Select the most appropriate option that can substitute the underlined segment in the given sentence.  
Everyone likes in watch a magic show.
- (a) liked in watch  
(b) likes to watch  
(c) likes to watching  
(d) like in watching [b]
69. Select the most appropriate option that can substitute the underlined segment in the given sentence.  
If you need any help tomorrow, let him knows.
- (a) let me know  
(b) let us known  
(c) let him known  
(d) let them knew [a]
70. Parts of the following sentence have been underlined and given as options. Select the option that contains a misspelt word.  
For every endeavour-whether in the area of career, academics, music, sports or even in spirituality, it is a long ardous journey.
- (a) endeavour  
(b) academics  
(c) ardous  
(d) career [c]
71. Select the most appropriate option that can substitute the underlined segment in the given sentence.  
They said that he is not going to call them.
- (a) they are not going to call them  
(b) he has not gone to call then  
(c) he was not going to call them

- (d) he shall not call them [c]
72. Select the option that rectifies the spelling of the underlined word in the given sentence.  
The tour company has included all the activities that you have requested in your itenarary.
- (a) itinerarey  
(b) itenarary  
(c) itenerarey  
(d) itinerary []
73. Select the most appropriate option that can substitute the underlined segment in the given sentence.  
The development of skills can contribute to structural transformation and economic growth in enhance employability and labour productivity and helping countries to become more competitive.
- (a) for enhanced employability  
(b) about enhancing employability  
(c) by enhancing employability  
(d) by enhanced employability [c]
74. Select the most appropriate meaning of the underlined idiom.  
The entrepreneur decided to throw caution to the wind.
- (a) Take the best option  
(b) In extreme windy conditions  
(c) Think innovatively  
(d) Take a risk [d]
75. Select the most appropriate option to fill in the blank. He is first \_\_\_\_ to his job and then to his family.
- (a) enabled  
(b) confirmed  
(c) convinced  
(d) committed [d]
76. Select the option that rectifies the spelling of the underlined word in the given sentence.  
One of her colleagues had agreed to act as the arbitratore in finalising the contract
- (a) arbitrator  
(b) arbitetator  
(c) arbitor  
(d) arbitraitore [a]
77. The following sentence has been split into four segments. Identify the segment that contains an error. If he had paid / attention to the announcement, / he had not / missed the train.
- (a) If he had paid  
(b) he had not

- (c) missed the train  
(d) attention to the announcement [b]
78. Select the most appropriate synonym of the given word. **Tedious**  
(a) Dreary  
(b) Carefree  
(c) Hostile  
(d) Dynamic [a]
79. Select the most appropriate option that can substitute the underlined segment in the given sentence.  
**Helena loves to dig and played in the dirt like any other child.**  
(a) play in the dirt  
(b) plays of dirt  
(c) playing with in dirt  
(d) playing on dirt [a]
80. Select the most appropriate meaning of the given idiom. **Child's play**  
(a) Just behaviour  
(b) Something very easy  
(c) Weakness  
(d) In someone's role [b]
81. The following sentence has been split into four segments. Identify the segment that contains a grammatical error and select the option which rectifies that error. The space agency wanted / to test with a chimp / before orbiting a astronaut / in a Mercury capsule.  
(a) before orbiting an astronaut  
(b) to test with an chimp  
(c) The space agency want  
(d) in an Mercury capsule. [a]
82. Select the option that can be used as a one-word substitute for the given group of words. **Not fit for eating**  
(a) Inedible  
(b) Ineligible  
(c) Ineluctable  
(d) Inept [a]
83. The given sentence contains an error. Select the option that correctly rectifies the error. **He is the better-looking hero in the entire film industry.**  
(a) He is the best-looking hero in the entire film industry.  
(b) He is the good-looking hero in the entire film industry.  
(c) He is the good-looking hero than the entire film industry.  
(d) He is the best-looking hero more than the entire film industry. [a]
84. Select the most appropriate meaning of the underlined idiom. The mother requested the nurse to **keep an eye on** the baby while she went for tea.  
(a) Keep informed  
(b) Mistreat  
(c) Watch and take care  
(d) Watch for the arrival or appearance [c]
85. Select the most appropriate ANTONYM of the given word. **Align**  
(a) Coincide  
(b) Position  
(c) Centre  
(d) Disrupt [d]
86. **Comprehension:** In the following passage, some words have been deleted. Read the passage carefully and select the most appropriate option to fill in each blank. There will only be two types of human beings in the future: the minority having enormous brains and (1)\_\_\_\_\_ bodies, and the majority with tiny brains and muscular bodies. The size of the average brain will (2)\_\_\_\_\_ diminish; not because of our innate laziness, but because of our over-concern about our physical appearance. In the old days, most people dreamt of having shelter and a stable food supply. As we no longer struggle for the basic (3)\_\_\_\_\_, our dreams focus instead on the search for physical beauty, how to obtain and maintain the 'ideal body shape' and healthy life the media promotes. Physical beauty will become the main goal of the majority. They'll do exercises every day, taking (4)\_\_\_\_\_ to maintain their shape while not noticing that their brains are shrinking. Actually, there is no doubt that they'll work (5)\_\_\_\_\_ hard to make their brains smaller.  
Select the most appropriate option to fill in blank number 1.  
(a) tiny  
(b) minute  
(c) cute  
(d) minor [a]
87. **Comprehension:** In the following passage, some words have been deleted. Read the passage carefully and select the most appropriate option to fill in each blank. There will only be two types of human beings in the future: the minority having enormous brains and (1)\_\_\_\_\_ bodies, and the majority with tiny brains and muscular bodies. The size of

the average brain will (2)\_\_\_\_\_ diminish; not because of our innate laziness, but because of our over-concern about our physical appearance. In the old days, most people dreamt of having shelter and a stable food supply. As we no longer struggle for the basic (3)\_\_\_\_\_, our dreams focus instead on the search for physical beauty, how to obtain and maintain the 'ideal body shape' and healthy life the media promotes. Physical beauty will become the main goal of the majority. They'll do exercises every day, taking (4)\_\_\_\_\_ to maintain their shape while not noticing that their brains are shrinking. Actually, there is no doubt that they'll work (5)\_\_\_\_\_ hard to make their brains smaller.

Select the most appropriate option to fill in blank number 2.

- (a) properly
- (b) gradually
- (c) appropriately
- (d) slightly

[b]

88. **Comprehension:** In the following passage, some words have been deleted. Read the passage carefully and select the most appropriate option to fill in each blank. There will only be two types of human beings in the future: the minority having enormous brains and (1)\_\_\_\_\_ bodies, and the majority with tiny brains and muscular bodies. The size of the average brain will (2)\_\_\_\_\_ diminish; not because of our innate laziness, but because of our over-concern about our physical appearance. In the old days, most people dreamt of having shelter and a stable food supply. As we no longer struggle for the basic (3)\_\_\_\_\_, our dreams focus instead on the search for physical beauty, how to obtain and maintain the 'ideal body shape' and healthy life the media promotes. Physical beauty will become the main goal of the majority. They'll do exercises every day, taking (4)\_\_\_\_\_ to maintain their shape while not noticing that their brains are shrinking. Actually, there is no doubt that they'll work (5)\_\_\_\_\_ hard to make their brains smaller.

Select the most appropriate option to fill in blank number 3.

- (a) amenities
- (b) facilities
- (c) identities
- (d) necessities

[d]

89. **Comprehension:** In the following passage, some words have been deleted. Read the passage carefully and select the most appropriate option to fill in each blank. There will only be two types of human beings in the future: the minority having enormous brains and (1)\_\_\_\_\_ bodies, and the majority with tiny brains and muscular bodies. The size of the average brain will (2)\_\_\_\_\_ diminish; not because of our innate laziness, but because of our over-concern about our physical appearance. In the old days, most people dreamt of having shelter and a stable food supply. As we no longer struggle for the basic (3)\_\_\_\_\_, our dreams focus instead on the search for physical beauty, how to obtain and maintain the 'ideal body shape' and healthy life the media promotes. Physical beauty will become the main goal of the majority. They'll do exercises every day, taking (4)\_\_\_\_\_ to maintain their shape while not noticing that their brains are shrinking. Actually, there is no doubt that they'll work (5)\_\_\_\_\_ hard to make their brains smaller.

Select the most appropriate option to fill in blank number 4.

- (a) additives
- (b) nutrients
- (c) preservatives
- (d) nutrition

[b]

90. **Comprehension:** In the following passage, some words have been deleted. Read the passage carefully and select the most appropriate option to fill in each blank. There will only be two types of human beings in the future: the minority having enormous brains and (1)\_\_\_\_\_ bodies, and the majority with tiny brains and muscular bodies. The size of the average brain will (2)\_\_\_\_\_ diminish; not because of our innate laziness, but because of our over-concern about our physical appearance. In the old days, most people dreamt of having shelter and a stable food supply. As we no longer struggle for the basic (3)\_\_\_\_\_, our dreams focus instead on the search for physical beauty, how to obtain and maintain the 'ideal body shape' and healthy life the media promotes. Physical beauty will become the main goal of the majority. They'll do exercises every day, taking (4)\_\_\_\_\_ to maintain their shape while not noticing that their brains are shrinking. Actually, there is no



doubt that they'll work (5)\_\_\_\_\_ hard to make their brains smaller.

Select the most appropriate option to fill in blank number 5.

- (a) impishly
- (b) rarely
- (c) so
- (d) extremely

[d]